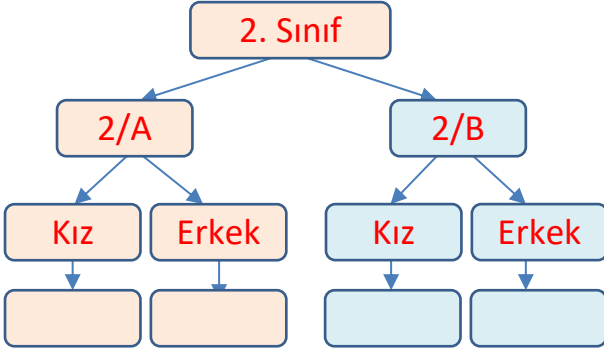


Adı :
Soyadı:

2. Sınıf Matematik

Veri Toplama Yeni Nesil Sorular-1



Okulumuzda 2.sınıflara ait ağaç şema yukarıda gösterilmiştir. Aşağıdaki bilgilere göre soruları cevaplandırınız.

- * 2/B sınıfında 17 kız, 2/A sınıfında 16 erkek vardır.
- * 2/A sınıfının mevcudu 34 kişidir.
- * Erkeklerin toplam sayısı 34 kişidir.

Okulumuzda 2. sınıfa giden kaç tane öğrenci vardır?

- A 69 C 81
B 73 D 70

Okulumuzda erkek öğrencilere ait çetele tablosu hangisinde doğru verilmiştir?

	2/A	2/B
A		
B		
C		
D		

2/A ve 2/B sınıfındaki 32 kız ve 36 erkek öğrenciye en çok sevdikleri meyveleri sorduk. Verilen bilgilere göre nesne grafiği aşağıdadır.

	Seven Öğrenci Sayısı
Kız	
Erkek	
Kız	
Erkek	
Kız	
Erkek	
Kız	?
Erkek	?

Her nesne 2 adettir.

Verilen bilgilere geri kalan öğrenciler karpuz sevmektedir. Kız ve erkek öğrenciler için kaçar tane karpuz resmi eklenmelidir?





	Kız	Erkek
A	4	8
B	8	8
C	4	4
D	8	4

Adı :
Soyadı:

2. Sınıf Matematik

Veri Toplama Yeni Nesil Sorular-1

Okulumuzun kantininde satılan ürünleri gösteren şekil grafiği aşağıda gösterilmiştir.

Ürün	Satılan Ürün Sayısı
Tost	
Simit	
Su	
Süt	

Her şekil 3 tanedir.

Kantinci toplam kaç tane ürün satmıştır?

- A** 90 **C** 30
B 87 **D** 93

Kantinci tostun tanesini 5 liradan, sattığına göre kaç lira para kazanmıştır?

- A** 70 TL **C** 90 TL
B 65 TL **D** 75 TL

Kantinci simitlerin tanesini 3 liradan satmıştır. Grafiğe 4 tane daha simit şekli ekleydik ne kadar para kazanmış olurdu?

- A** 90 TL **C** 93 TL
B 87 TL **D** 96 TL

Kantinci 6 tane sütü 18 liraya satmıştır. Sütlerden kaç lira para kazanmıştır?

- A** 78 TL **C** 84 TL
B 81 TL **D** 87 TL

Ayşe kantinden aldığı 2 tane sütü geri vererek yerine 3 tane su almıştır. Kantinci sulardan toplam ne kadar kazanmıştır?

- A** 80 TL **C** 60 TL
B 40 TL **D** 20 TL